



## 数直線

つぎの かずを かずの せんの めもりを みて こたえましょう。

(1) 62より 4おおきいかず



(2) 100より 3ちいさいかず



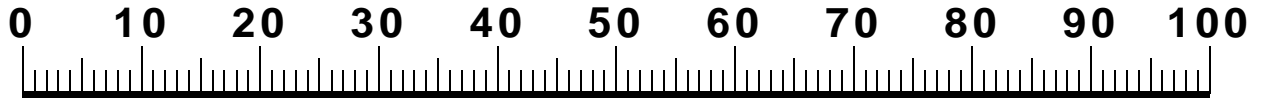
(3) 89より 7ちいさいかず



このような かずの せんを **すうちょくせん**と いいます。

1 つぎの かずを すうちょくせんを みて こたえましょう。

(1) 44より 5おおきいかず



(2) 100より 7ちいさいかず



(3) 66より 4おおきいかず



(4) 53は どんなかず ですか。□に すうじを いれましょう。

50より

おおきいかず・60より

ちいさいかず



2 すうじの ならびかたを かんがえて  のなかに あてはまる  
すうじを かきましょう。


(1)  $32 - 33 - 34 - \text{} - 36 - \text{} - 38$

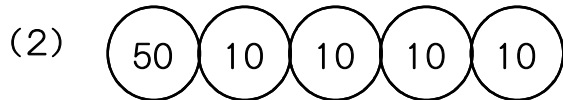
(2)  $10 - \text{} - 20 - 25 - \text{}$

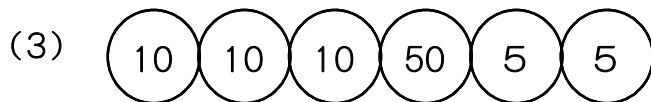
(3)  $20 - \text{} - 60 - 80 - \text{}$

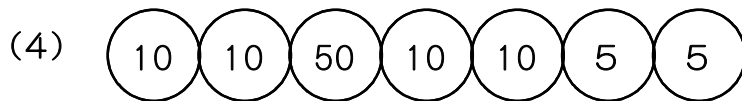
(4)  $30 - \text{} - 28 - 27 - \text{} - 25$

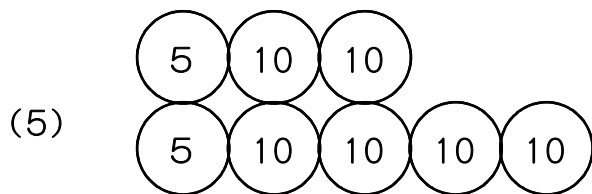
3 つぎの おかねは ぜんぶで いくらに なりますか。
















# ちょうせん

5 したの ような 5まいの カードが あります。  
あとの もんだいに こたえましょう。



(1) 5まいの カードのうち 2まいを ならべて できる いちばん おお  
きい 2けたの かずを こたえましょう。

(2) 5まいの カードのうち 2まいを ならべて できる いちばん ちい  
さい 2けたの かずを こたえましょう。

(3) 5まいの カードのうち 2まいを ならべて できる 20より ちい  
さい 2けたの かずを すべて こたえましょう。

(4) 5まいの カードのうち 2まいを ならべて できる 一のくらいが  
7の 2けたの かずを すべて こたえましょう。

(5) 5まいの カードのうち 2まいを ならべて できる 十のくらいが  
7の 2けたの かずを すべて こたえましょう。