



おうよう

- 1 いろえんぴつが ぜんぶで 52ほん あります。そのうち あかいろが 28ぽんで、あおいろは 15ほん あります。のこりは、ぜんぶ きいろだとすると、きいろの いろえんぴつは、なんぼん ありますか。

(しき)

(こたえ)

- 2 みかんが ぜんぶで 40こ ありました。おとうとと いもうとが 6つずつ たべました。のこりは、なんこ ありますか。

(しき)

(こたえ)

3 さとるくんの クラスで たいかいを しました。いま、はるこさんは
まえから 12ばんめ、うしろからも 12ばんめを はしっています。つ
ぎのといに こたえましょう。

(1) ぜんいんで なんにん はしっていますか。

(しき)

(こたえ)

(2) なつおくんは うしろから 8ばんめを はしっています。まえから か
ぞえると なんばんめを はしって いますか。

(しき)

(こたえ)

(3) ふゆこさんは まえから 11ばんめを はしっています。ふゆこさんの
うしろには なんにん はしって いますか。

(しき)

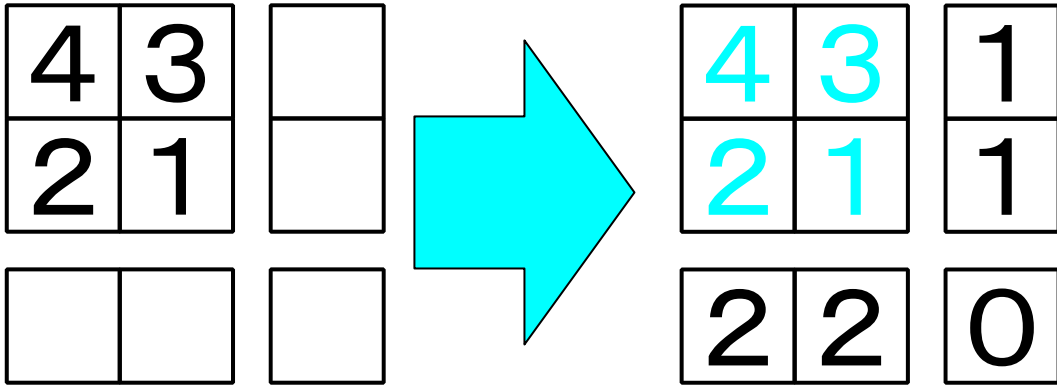
(こたえ)



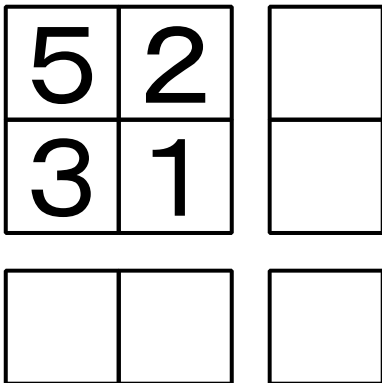
ちょうせん

4 おなじ れつの かずを 左から右、上から下へと ひいていく パズルです。あいている マスに かずを 入れて パズルを かんせい させましょう。

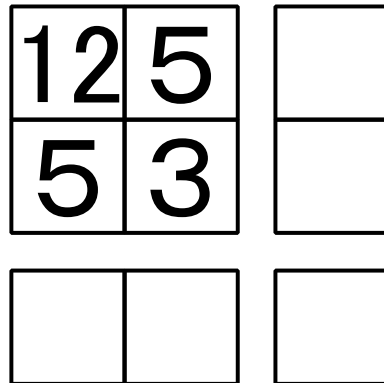
(れい)



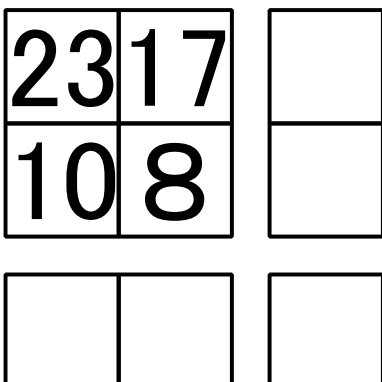
(1)



(2)



(3)



(4)

