

100までのたし算



おうよう

1 みかんを 1こずつ 37にんに くばると 3こ ありました。みかんは みんなで いくつ ありますか。

(しき)

(こたえ)

2 1こ 25円の チョコレートを 3つ かいました。ぜんぶで いくら はらえば よいですか。

(しき)

(こたえ)

- 3 しろい はこに ボールが 23こ はいっています。くろい はこには しろい はこよりも 18こ おおく はいっています。しろい はこ と くろい はこに はいっている ボールの かずは ぜんぶで なんこに なりますか。

(しき)

(こたえ)

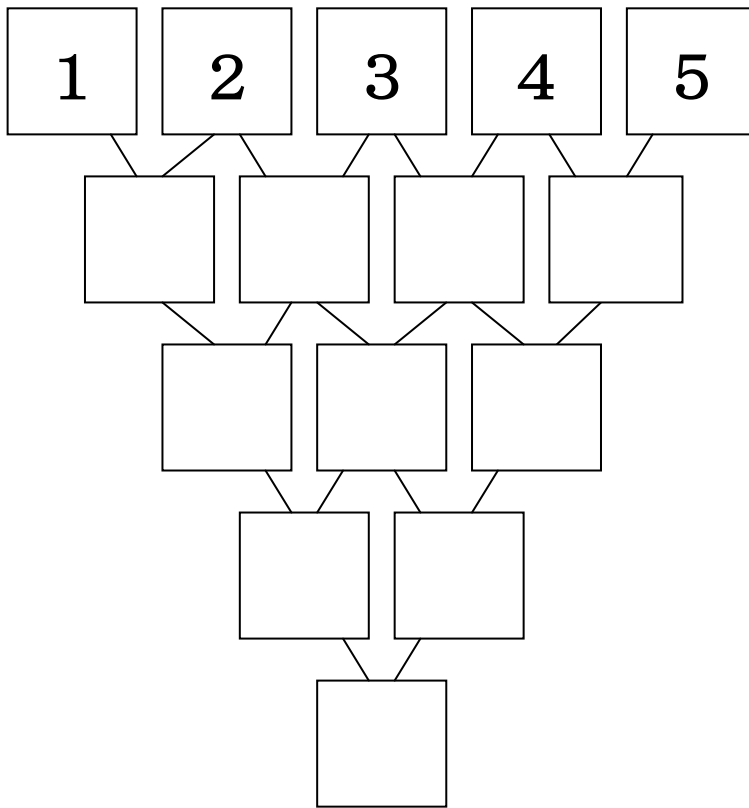
- 4 なつおくんの もっている くりは 23こで、はるこさんの もっている くりのかずより 17こ すくないそうです。はるこさんの もっている くりの かずは なんこですか。

(しき)

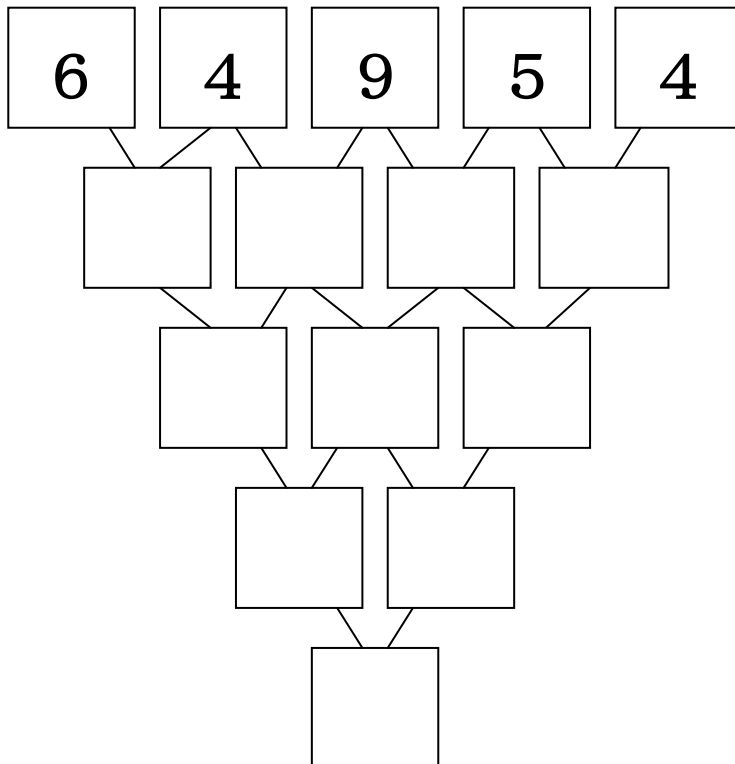
(こたえ)

5 となりどうしを どんどん あわせていくと いちばん したの
しかくの なかは いくつに なりますか。かいて いきましょう。

(1)



(2)

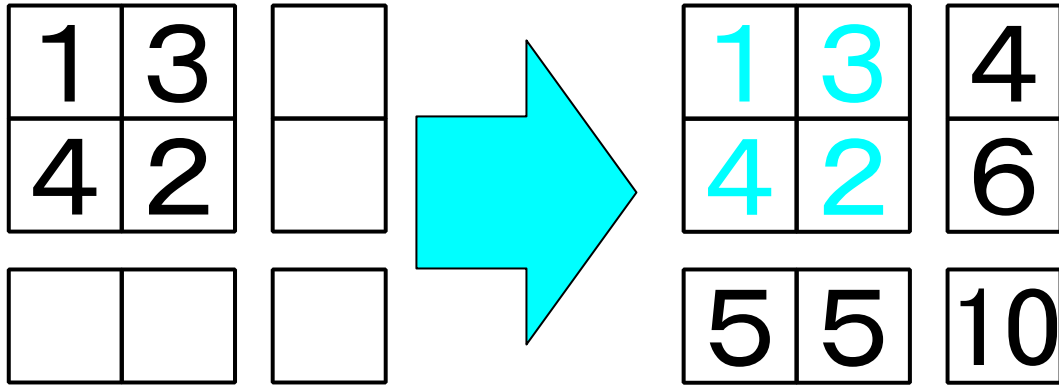




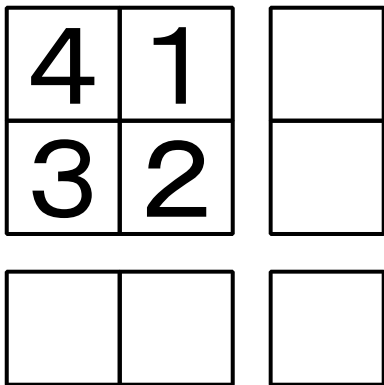
ちょうせん

6 おなじ れつの かずを 左から右、上から下へと たしていく パズルです。あいている マスに かずを 入れて パズルを かんせい させましょう。

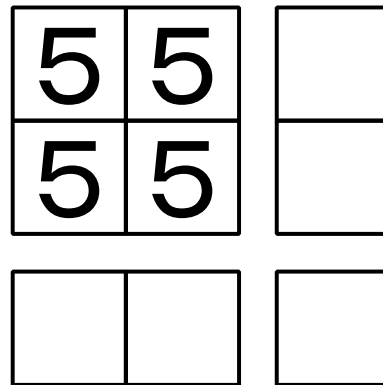
(れい)



(1)



(2)



(3)

