



おうよう

1 つぎの もんだいを よんで こたえましょう。

(1) 赤い おはじきは 10こいりの ふくろで 2ふくろ、青い おはじきは、10こいりの ふくろで 3ふくろ あります。おはじきは、ぜんぶで いくつですか。

(しき)

(こたえ)

(2) たろうくんの もっている おかねは、1まい 10円のがようしを 6まい かうには、4円 たりません。たろうくんは、何円 もっていますか。

(しき)

(こたえ)

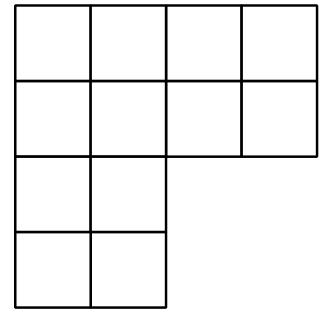
(3) ゴムひもが あります。10cmずつに きったら、7ほんできて、あと 3cm のこりました。はじめ ゴムひもは、なんcm ありましたか。

(しき)

(こたえ)

2 みぎの ずの □の かずを もとめましょう。


(しき)



(こたえ)

3 みぎの ずの □の かずを もとめましょう。

(しき)




(こたえ)



ちょうせん

4 ●のかずを 九九を つかって もとめましょう。



(しき)

(こたえ)